













LEI: 1 CARRO  PARA CADA 4  RODAS

NÚMERO DE CARROS 	0	 1	 2	 3	 4	 5	 6	 7	 8	 9	 10
TOTAL DE RODAS 	0	4	8								

COMPLETE E DESCUBRA O SEGREDO DA LEI DO 4:

0	4	8	12	16
20				

