

**LEI DO 3: SÃO 3 BALÕES PARA CADA CRIANÇA**  
DESENHE OU COLE BALÕES PARA AS CRIANÇAS DE ACORDO COM A LEI.



**RESPONDA:**

SE CADA CRIANÇA SEGURA 3 BALÕES, QUANTOS BALÕES, AO TODO, SEGURAM 6 CRIANÇAS?

---

---




QUANTAS CRIANÇAS?	QUANTOS BALÕES PARA CADA CRIANÇAS?	QUANTOS BALÕES, AO TODO?

**FRASES MATEMÁTICAS:**

F.M.( + ): \_\_\_\_\_

F.M.( X ): \_\_\_\_\_

**LEI DO 5: SÃO 5 FLORES PARA CADA VASO**  
DESENHE OU COLE FLORES NOS VASOS DE ACORDO COM A LEI.



**RESPONDA:**

SE CADA VASO TEM 5 FLORES, QUANTAS FLORES, AO TODO, TÊM EM 3 VASOS?

---

---

QUANTOS VASOS?	QUANTAS FLORES TEM EM CADA VASO?	QUANTAS FLORES, SÃO AO TODO?

**FRASES MATEMÁTICAS:**

F.M.( + ): \_\_\_\_\_

F.M.( X ): \_\_\_\_\_